


ADI SOYADI:	
NO:	




TARİH	
BAŞARISI	<input type="radio"/> <input type="radio"/> <input type="radio"/> <input type="radio"/> <input type="radio"/>

1. SINIF MATEMATİK GENEL DEĞERLENDİRME SORULARI

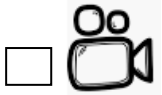
1. Hangi tavşan masanın üstündedir?



2. Aşağıdaki görselde en yüksekte uçan kuşu kırmızı renge boyayın.



3. Yanda gördüğünüz görselin eşi aşağıdakilerden hangisidir?



4. Aşağıdaki ritmik sayımlarda boş bırakılan sayıları yazın.

❖ 15 - 20 - 25 - - 35 - - 45 - 50

❖ 67 - 68 - 69 - - 71 - - - 74

❖ 10 - 20 - - - 50 - 60 - 70 - 80

❖ 2 - 4 - 6 - - 10 - 12 - - 16



5. Okunuşu "seksen dokuz" olan sayı aşağıdakilerden hangisidir?

☐ 78

☐ 89

☐ 99



6. "üç onluk ve dört birlikten" oluşan sayı aşağıdakilerden hangisidir?


☐ 43




☐ 34

☐ 53

7. Aşağıda içecek almak için sırada bekleyen insanları görüyorsunuz.

- Birinci sıradaki insanı kırmızıya boyayın.
- Altıncı sıradaki insanı yeşile boyayın.
- On ikinci sıradaki insanı maviye boyayın.
- Onuncu sıradaki insanı siyaha boyayın.



8.  +  = 

Yukarıda modelle gösterilen işlemin matematiksel yazımı aşağıdakilerden hangisidir?

☐ 6 - 2 = 8

☐ 6 + 2 = 8

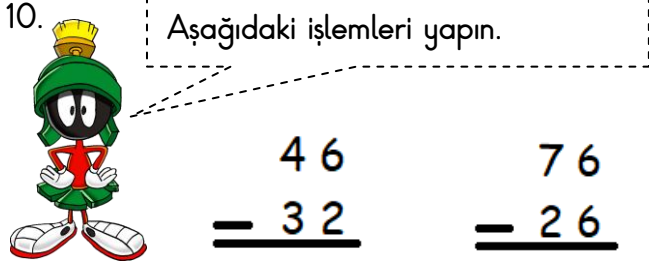
☐ 4 + 2 = 8





Yukarıda modelle gösterilen işlemin matematiksel yazımı aşağıdakilerden hangisidir?

☐ $12 + 3 = 15$ ☐ $12 - 3 = 9$ ☐ $12 - 9 = 3$



$$\begin{array}{r} 12 \\ + 40 \\ \hline \end{array}$$

$$\begin{array}{r} 82 \\ + 14 \\ \hline \end{array}$$

11. Aşağıdaki paraları değerleri ile eşleştirin.



beş Türk Lirası

beş kuruş

on kuruş

yirmi Türk Lirası

elli kuruş

yüz Türk Lirası

12. Sema'nın cebinden aşağıdaki paralar çıkıyor. Sema'nın parası ne kadardır? İşaretleyiniz.




☐ 61 TL


☐ 62 TL

☐ 63 TL

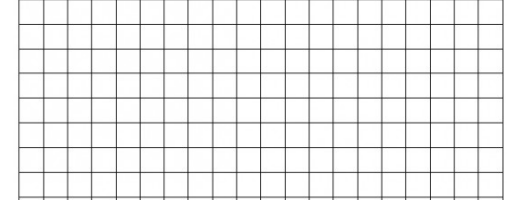
13. Sepetteki dokuz yumurtanın üç tanesi kırılırsa geriye kaç yumurta kalır?



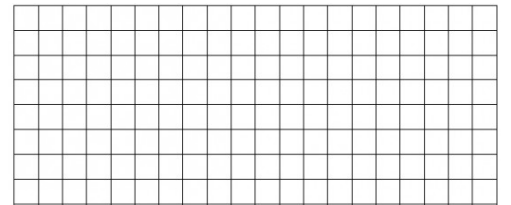

14. Ali'nin 16 cevizi var. Ali'ye babası 4 tane daha ceviz verince Ali'nin kaç cevizi olur?



15. Bir otobüste 20 yolcu vardır. Durakta otobüse 16 yolcu daha binince otobüste kaç yolcu olur?



16. Bakkalda 19 tane top vardır. Bakkal bu topoların 17 tanesini satınca bakkalda kaç top kalır?



17. Ayşe'nin 21 TL parası vardır. Ayşe'ye babası da 15 TL para verdi. Ayşe cebindeki tüm paranın 10TL'sini harcıyınca kaç lirası kalır?

